



basic education

Department:
Basic Education
REPUBLIC OF SOUTH AFRICA

**NASIONALE
SENIOR SERTIFIKAAT**

GRAAD 12

WISKUNDIGE GELETTERDHEID V1

ADDENDUM


NOVEMBER 2018

Hierdie addendum bestaan uit 4 bladsye met 3 bylaes.

BYLAE A

VRAAG 2.1

STUDENTEKLASGELDSTAAT VIR TAMRYN ABRAHAMS VIR SEPTEMBER 2017

 UNIVERSITEIT VAN KAAPSTAD FINANSIEKANTOOR UK +27 21 650-1704 PRIVAATSAK X3 RONDEBOSCH 7701 +27 21 650-4768 Epos:fnf-feeeng@uct.ac.za Web: http://www.uct.ac.za Gelde en Kassiere Kantoorure/Plek: Maandae-Vrydae 09h00 - 15h30 Donderdae - 09h30 - 15h30 Vlak 3, Kramer Regsgebou, Middelkampus				
STUDENTEKLASGELDESTAAT			Bladsy 1 van 1	
Me. Tamryn Abrahams Hoopstraat 24 Uitbreiding 12 Upington 8801	Rekeningstaat soos op		06/10/17	
	e-posadres		John.Abrms@gmail.com	
	Faktuur-ID		UK STAT NR. 0003399891	
	Studentenaam		Tamryn Jessica Abrahams	
	Studentenommer		ABRTAM002	
	Rekeningnommer		1567858	
	Verwagte befondsing		R0,00	
Datum	Besonderhede*	Debiet	Krediet	Balans
	Saldo oorgedra	14 819,50		14 819,50
31/12/16	Rente op agterstallige gelde	148,20		14 967,70
16/01/17	Nr. 5 Bankrek direk deposit Ref 950230173		-8 650,00	6 317,70
06/03/17	APG 2000F Geskiedenis & Teorie van Argt	3 030,00		
06/03/17	APG 2000F Geskiedenis & Teorie van Argt	3 030,00		
06/03/17	APG 2003S Teoriestrukture 3	2 280,00		
06/03/17	APG 2009F Teoriestrukture 4	2 280,00		
06/03/17	APG 2011S Tegnologie 2	9 580,00		
06/03/17	APG 2038W Omgewing & Dienste II	4 530,00		
06/03/17	APG 2039W Ontwerp & Teorie-ateljee II	29 460,00		
23/03/17	Laatbetalingsboete	2 087,00		62 594,70
16/05/17	Nr. 5 Bankrek direk deposit Ref 950241526		-23 000,00	39 594,70
31/08/17	Rente op agterstallige gelde	395,95		
30/09/17	Rente op agterstallige gelde	395,95		
E. & O.E	Verskuldig aan ons			R40 386,60

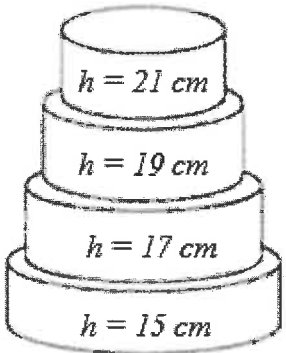
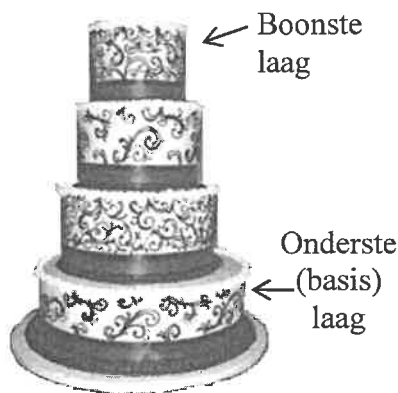
[Aangepas uit www.srvwinpsw006.wf.uct.ac.za]**Besonderhede*: Saldo/rente/kursuskode/kursusnaam**

BYLAE B

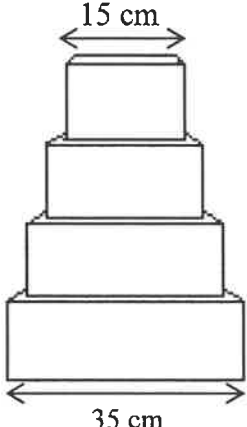
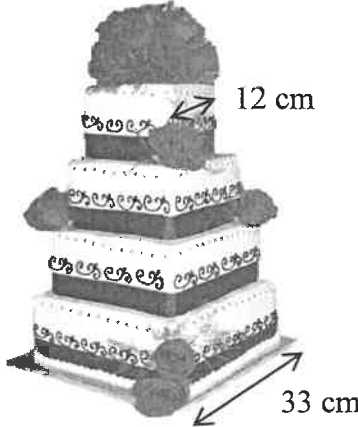
VRAAG 3.1

VIERLAAG-ROOIFLUWEEL-TROUKOEKE

AMY SE VIERLAAG SILINDRIESE ROOIFLUWEEL-TROUKOEK

 <p>$h = 21\text{ cm}$ $h = 19\text{ cm}$ $h = 17\text{ cm}$ $h = 15\text{ cm}$</p> <p>hoogte = h</p>	 <p>Boonste laag Onderste (basis) laag</p>
--	---

AMY SE VIERLAAG REGHOEKIGE ROOIFLUWEEL-TROUKOEK

 <p>15 cm 35 cm</p> <p>Lengte van boonste laag = 15 cm Lengte van onderste laag = 35 cm</p>	 <p>12 cm 33 cm</p> <p>Breedte van boonste laag = 12 cm Breedte van onderste laag = 33 cm</p>
--	---

[Aangepas uit www.pinterest.com]

BYLAE C

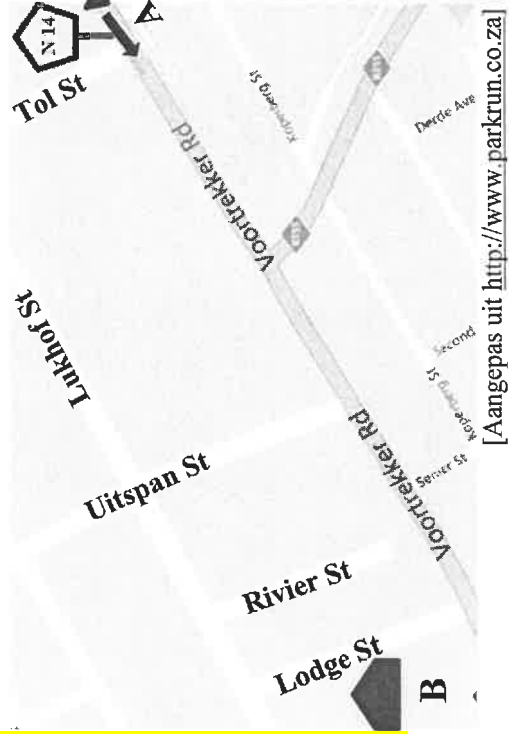
VRAAG 4

PARKWEDLOOP ('PARKRUN') SUID-AFRIKA

STRAATKAART VAN SPRINGBOK

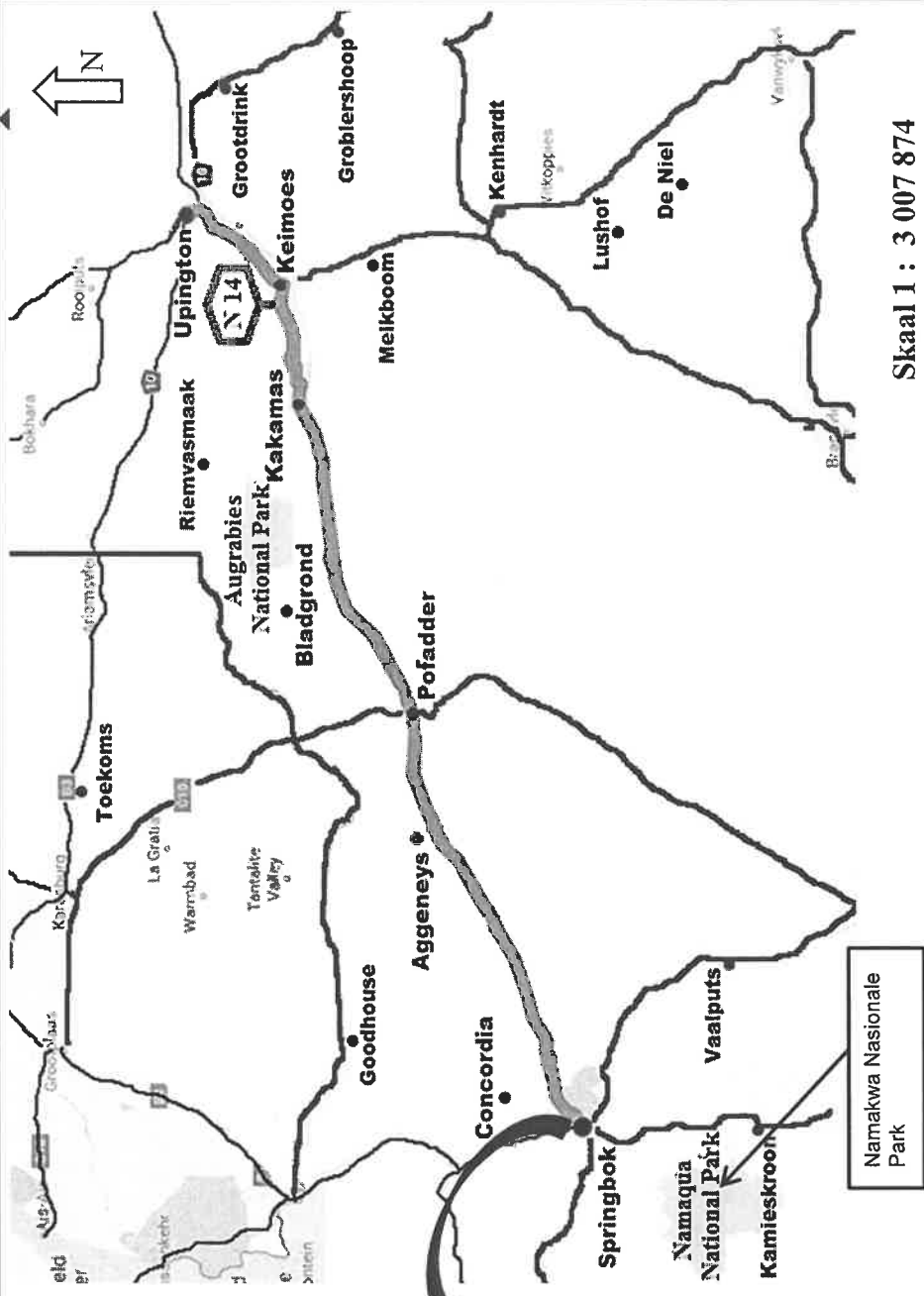


Sleutel: Debs-Lodge



[Aangepas uit <http://www.parkrun.co.za>]

ROETEKAART VAN UPINGTON NA SPRINGBOK



Skaal 1 : 3 007 874

[Aangepas uit <http://www.google.maps.com>]